




[Visão do Sertão - Vicente Itabaiana]

CADERNO DE QUESTÕES



[Caatinga – Pintura de Sandra Bianchi]

020 – COZINHEIRO

NOME COMPLETO DO(A) CANDIDATO(A)

SALA Nº

09/09/2012

Caro(a) Candidato(a),

Leia com atenção e cumpra rigorosamente as seguintes instruções. Elas são parte integrante da prova e das normas que regem este Concurso Público.

INSTRUÇÕES INICIAIS:

1. Você terá 04 (quatro) horas para responder as questões dessa Prova, sendo de 01 hora o tempo mínimo de permanência em sala.
2. Ao concluir a prova, entregue ao fiscal a Folha de Respostas.
3. Você só poderá levar o Caderno de Prova após decorridas 03 (três) horas do início efetivo da prova.
4. Quando faltar uma hora para o encerramento do tempo de aplicação da prova, o fiscal informará aos candidatos.
5. Ao abrir o Caderno de Provas, confira a sequência das páginas e das questões. Se for identificado algum problema, informe, imediatamente, ao fiscal.
6. Iniciada a prova, é vedado formular perguntas, pois o entendimento das questões é parte integrante da mesma.
7. Não é permitido comunicar-se com outro candidato ou recorrer a consultas a livros, anotações, agendas eletrônicas, gravadores, ou mesmo usar máquina calculadora, telefone celular e/ou similares ou qualquer instrumento receptor/transmissor de mensagens.
8. Os dois últimos candidatos deverão permanecer na sala até a entrega da prova pelo último candidato.

CADERNO DE QUESTÕES

Este caderno de Prova contém 40 questões objetivas, com 05 (cinco) alternativas cada uma, indicadas pelas letras **a), b), c), d) e e)**, assim distribuídas:

Língua Portuguesa, sendo 10 questões.

Matemática, sendo 10 questões.

Conhecimentos Gerais/Regionais/Atualidades, sendo 10 questões.

Conhecimentos Específicos, sendo 10 questões.

SOBRE A FOLHA DE RESPOSTAS

1. É de sua inteira responsabilidade o manuseio correto da Folha de Respostas.
2. Leia cuidadosamente cada questão e marque a resposta correta na Folha de Respostas.
3. Existe **APENAS UMA** resposta correta para cada questão objetiva. Observe as instruções dadas para as questões.
4. Use caneta esferográfica de tinta azul ou preta ao assinalar sua resposta na Folha de Respostas, e preencha completamente o espaço a ela destinado, sem ultrapassar os seus limites.
5. Confira os dados constantes na Folha de Respostas e assine-a no espaço reservado para tal fim, no cabeçalho.

Boa Sorte!

Referências das imagens/capa:
 ITABAIANA, Vicente. *Visão do Sertão*. Disponível em <http://www.flickr.com/photos/75037287@N02/7085867597/>, acesso em 20 de agosto de 2012.
 BIANCHI, Sandra. *Caatinga*. Disponível em http://balaiovermelho.blogspot.com.br/2008_06_01_archive.html, acesso em 20 de agosto de 2012.

PORTUGUÊS – Questões de 01 a 10

Instrução: analise cuidadosamente as questões apresentadas e marque na Folha de Respostas a alternativa coerente com a pergunta dada.

QUESTÕES DE 01 A 07

Texto 01:

O CARVALHO E OS JUNCOS



Um enorme carvalho, ao ser puxado do chão pela força de forte ventania, rio abaixo, é levado pela correnteza. Arrastado pelas águas, ele cruza com alguns Juncos e, em tom de pranto, exclama:

– Gostaria de ser como vocês, que de tão delicados e esguios, não são de modo algum afetados por estes fortes ventos.

E Eles responderam:

– Você competiu e lutou com o vento, por isso mesmo foi destruído. Nós, ao contrário, curvamo-nos, mesmo diante do mais leve sopro da brisa e, por esta razão, permanecemos inteiros e a salvos.

ESOP. O Carvalho e os Juncos. Disponível em <http://sitededicas.ne10.uol.com.br/fabula16a.htm>, acesso em 15 de agosto de 2012. [Com adaptações]

QUESTÃO 01.

Análise as afirmativas abaixo a respeito do texto *O Carvalho e os Juncos*.

- a) O texto tem, como maior preocupação, descrever as características do carvalho e os juncos.
- b) O texto traz, como maior intencionalidade, evidenciar e discutir um fato do cotidiano.
- c) O texto apresenta, como maior objetivo, uma discussão argumentativa sobre as lutas de classes.
- d) O texto tem, como maior preocupação, narrar uma história e extrair dela um ensinamento para realidade.
- e) O texto apresenta, como maior intencionalidade, elementos subjetivos e destaca aspectos da poeticidade.

QUESTÃO 02.

A ideia-síntese do texto acima é:

- a) “nem sempre o mal está na obriedade.”
- b) “tornar-se flexível é a base da superação das crises.”
- c) “duas pessoas podem se unir por uma única causa.”
- d) “humanizar-se é a saída para solução dos conflitos humanos.”
- e) “ter coragem e fé para vencer as batalhas do cotidiano.”

QUESTÃO 03.

Pela leitura do texto, podemos dizer que a palavra “**esguios**”, jamais poderia ser substituída por:

- a) esbeltos.
- b) magros.
- c) estreitos.
- d) sem ancas.
- e) volumosos.

QUESTÃO 04.

O último parágrafo do texto “*O Carvalho e os Juncos*” pode ser dito em outras palavras. Assinale a alternativa que apresenta essa possibilidade.

- a) “Para vencer os mais fortes, não devemos usar a força, mas antes disso, inteligência e humildade.”
- b) “É um tolo e duas vezes imprudente, aquele que desiste do certo pelo duvidoso.”
- c) “Na maioria das vezes, as coisas insignificantes desviam nossa atenção do verdadeiro problema.”

- d) “Quem é mau caráter, sempre vai achar uma desculpa para tornar legítimas suas ações.”
e) “Ao desejar ser aquilo que não somos, estamos plantando dentro de nós a semente da frustração.”

QUESTÃO 05.

Sobre a palavra em destaque na frase “**Gostaria** de ser como vocês...”, assinale a alternativa correta.

- a) Enuncia um fato que deve ocorrer num tempo vindouro com relação ao momento atual.
b) Enuncia um fato que deve ocorrer posteriormente a um momento atual, mas já terminado antes de outro fato futuro.
c) Enuncia um fato que pode ocorrer posteriormente a um determinado fato passado.
d) Enuncia um fato que poderia ter ocorrido posteriormente a um determinado fato passado.
e) Expressa um fato ocorrido num momento anterior ao atual, mas que não foi completamente terminado.

QUESTÃO 06.

Na frase “**Arrastado** pelas águas, ele cruza com alguns Juncos...”, a palavra em destaque:

- a) substitui a palavra “Carvalho”.
b) atua, na frase, com a função de pronome.
c) demarca a ação do “Carvalho”.
d) caracteriza os personagens “Juncos”.
e) caracteriza o personagem “Carvalho”.

QUESTÃO 07.

Sobre a frase “**Você competiu e lutou com o vento...**”, analise os itens abaixo.

- I. A frase expressa um fato ocorrido num momento anterior ao atual e que foi totalmente terminado.
II. Podemos encontrar na frase uma conjunção e uma preposição.
III. “Você” é um pronome de tratamento e se refere à 2ª. pessoa do discurso, aquela “com quem se fala.”
IV. “Você” se comporta como pronome de 3ª. pessoa.
V. A frase expressa um fato ocorrido antes de outro fato já terminado.

É correto o que se afirma em:

- a) apenas em I, II e III.
b) apenas em I, II e IV.
c) apenas em II e V.
d) apenas em I, II, III e IV.
e) todos os itens.

QUESTÕES 08 A 10

Texto 02:



Disponível em http://claudinhabarros.blogspot.com.br/2010_04_01_archive.html, acesso em 15 de agosto de 2012.

QUESTÃO 08.

Sobre o texto 2, julgue os itens abaixo.

- I. O texto insinua que o Novo Acordo Ortográfico da Língua Portuguesa se ajusta à nova realidade linguística do Brasil.
- II. O aluno afirma para a professora que há uma insatisfação quanto ao Novo Acordo Ortográfico da Língua Portuguesa.
- III. A professora espanta-se com o uso adequado da fala do aluno aos padrões linguísticos previstos no Novo Acordo Ortográfico da Língua Portuguesa.
- IV. A linguagem do aluno apresenta características próprias de um determinado grupo social.
- V. O aluno demonstra que, cotidianamente, nossa linguagem recebe novas influências.

É correto o que se afirma em:

- a) apenas I e III.
- b) apenas II, IV e V.
- c) apenas II e IV.
- d) apenas III e V.
- e) todos os itens.

QUESTÃO 09.

A leitura atenta da fala do aluno no texto 2 faz-nos concluir que se trata, exceto:

- a) de uma expressão coloquial da linguagem.
- b) do uso corriqueiro da linguagem entre jovens de áreas socialmente mais fragilizadas.
- c) de uma expressão proposital do aluno para ironizar o Novo Acordo Ortográfico.
- d) de um exemplo de como a língua e seus falantes são diferentes.
- e) de um ato de comunicação, embora, distante dos padrões estabelecidos pela língua culta.

QUESTÃO 10.

Considerando o Novo Acordo Ortográfico da Língua Portuguesa, analise os itens abaixo.

- I. Sobre o emprego do hífen, as palavras **pré-história** e **super-homem** estão de acordo com o Novo Acordo Ortográfico da Língua Portuguesa.
- II. Sobre o emprego do hífen, as palavras **desumano**, **inábil**, **inumano** estão de acordo com o Novo Acordo Ortográfico da Língua Portuguesa.
- III. Segundo o Novo Acordo Ortográfico da Língua Portuguesa, o acento agudo deve existir para distinguir palavras paroxítonas que, tendo respectivamente vogal tônica ou átona aberta ou fechada, são homógrafas de palavras átonas, a exemplo de **pára** (verbo parar) e **para** (preposição).

Está correto o que se afirma em:

- a) apenas I
- b) apenas II.
- c) apenas III.
- d) apenas I e II.
- e) apenas II e III.

MATEMÁTICA – Questões de 11 a 20

Instrução: analise cuidadosamente as questões apresentadas e marque na Folha de Respostas a alternativa coerente com a pergunta dada.

QUESTÃO 11.

Maria toma remédio controlado há 6 anos. São três comprimidos todos os dias, ingeridos de oito em oito horas. Para não perder o horário de tomar o remédio, Maria criou uma tabela em que coloca na porta da geladeira. Todas as vezes que toma o remédio, ela faz um X no dia e hora marcados na tabela. Oito horas da manhã de uma segunda-feira, Maria tomou seu remédio e percebeu que os comprimidos que sobraram na cartela só dariam até às quatro horas da tarde da quarta-feira seguinte. Quantos comprimidos restam na cartela?

- a) 5.
- b) 6.
- c) 7.
- d) 8.
- e) 9.

QUESTÃO 12.

João é pedreiro há muito tempo e, apesar de não ter terminado o ensino fundamental, sabe como ninguém fazer contas de área, volume, capacidade e muitas outras. Tudo isso foi adquirido com muitos anos de

trabalho. João sabe, por exemplo, que para levantar uma parede de uma murada que tem 10 metros de comprimento por 1 metro de altura, ele vai gastar 300 tijolos. Sendo assim, quantos tijolos João gastará para fazer duas muradas de 6 metros de comprimento por 1 metro de altura cada?

- a) 60 tijolos.
- b) 120 tijolos.
- c) 180 tijolos.
- d) 240 tijolos.
- e) 360 tijolos.

QUESTÃO 13.

A mãe de Ana saiu bem cedo de casa para trabalhar e deixou um bilhete para a filha com o seguinte conteúdo:

Ana,

Fui trabalhar mais cedo hoje e não quis te acordar. Quando chegar da escola, vá até a venda do Daniel e compre arroz, feijão, açúcar, farinha e creme de milho. Basta trazer um quilo de cada. Pegue R\$ 20,00 que deixei na cômoda ao lado de minha cama para pagar as compras. Se as coisas não aumentaram, o arroz ainda custa R\$ 1,50, o feijão R\$ 2,90, o açúcar R\$ 1,70, a farinha R\$ 2,75 e o creme de milho R\$ 2,40.

Beijos, mãe.

Depois que chegou da escola, Ana foi até a venda fazer as compras. Quando chegou lá, constatou que as coisas realmente não tinham mudado de preço e levou tudo que sua mãe havia pedido. Assim sendo, de quanto foi o troco que Ana levou para casa depois de ter pagado as compras?

- a) R\$ 3,40.
- b) R\$ 7,50.
- c) R\$ 8,75.
- d) R\$ 10,25.
- e) R\$ 11,25.

QUESTÃO 14.

Rodrigo quebrou o porquinho, no qual juntava moedas de 1 real, 50 centavos e 25 centavos. Depois de separar as moedas, Rodrigo contou 23 moedas de 1 real e 32 moedas de 50 centavos. Sabendo que todo o dinheiro que tinha no porquinho era R\$ 42,75, quantas eram as moedas de 25 centavos que havia no porquinho?



- a) 15.
- b) 17.
- c) 19.
- d) 21.
- e) 23.

QUESTÃO 15.


Paulo fez uma viagem de ida e volta entre Salvador e Feira de Santana em seu carro. Na ida, com o tanque cheio, Paulo rodou 120 km até abastecer. Depois de completar o tanque com 10 litros de combustível, Paulo pegou o caminho de volta até chegar a sua casa, onde o marcador do carro indicava 96 km rodados desde que o tanque foi completado. Supondo que o carro de Paulo continuou fazendo a mesma média, de quilômetros rodados por litro de combustível, que na primeira parte da viagem, quantos litros foram gastos na volta para casa?

- a) 12 litros.
- b) 10 litros.

- c) 8 litros.
- d) 7 litros.
- e) 6 litros.

QUESTÃO 16.

Beto, Carlos e Daniel foram juntos à panificadora. Daniel comprou 9 pães a mais que Carlos e 12 pães a mais que Beto. Sabendo que Carlos comprou 8 pães, quantos pães os três compraram juntos?



- a) 17.
- b) 25.
- c) 29.
- d) 30.
- e) 34.

QUESTÃO 17.



Juquinha escova os dentes quatro vezes por dia. Ele é muito cuidadoso e bastante higiênico e, por isso, demora muito tempo com a torneira ligada. Sua mãe ensinou que ao desligar a torneira, enquanto escova os dentes, Juquinha pode gerar uma grande economia de água. Antes, em cada uma das escovações, ele gastava 2 litros de água. Agora, gasta meio litro a menos em cada escovação. Considerando a semana de segunda a domingo, quantos litros de água, por semana, Juquinha vai economizar com a atitude simples de desligar a torneira?

- a) 8 litros.
- b) 14 litros.
- c) 28 litros.
- d) 42 litros.
- e) 56 litros.

QUESTÃO 18.

Edson pediu uma pizza por telefone para comer com seus amigos. Quando a pizza chegou, ele percebeu que ela estava fatiada em dez pedaços. Edson e os amigos comeram dois pedaços de pizza cada e, ao final, sobraram dois pedaços, que ele guardou para seus pais. Quantos amigos estavam na casa de Edson comendo pizza com ele?



- a) 6.
- b) 5.
- c) 4.
- d) 3.
- e) 2.


QUESTÃO 19.

Marcos recebe R\$ 132,00 adicionais todos os meses em seu salário para pagar as despesas com transporte. Para economizar, Marcos leva umaquentinha para o trabalho gastando, somente duas passagens por dia, a de ida e a de volta. Como cada passagem custa R\$ 1,20, sempre sobra um dinheirinho para Marcos. Considerando um mês de trinta dias, quanto sobra do dinheiro do transporte para Marcos?

- a) R\$ 36,00.
- b) R\$ 60,00.
- c) R\$ 72,00.
- d) R\$ 108,00.
- e) R\$ 120,00.

QUESTÃO 20.

Potenciação é uma “ferramenta” matemática utilizada para simplificar expressões. No exemplo ao lado, dizemos que a BASE 2 está elevada ao EXPOENTE 3. Isso significa que deve-se multiplicar a base 2 por ela mesma 3 vezes, chegando ao resultado oito.



Veja:

$$2^3 = 2 \times 2 \times 2 = 8$$

Sabendo disso, qual é o resultado de $(3^3) + (4^3)$?

- a) 27.
- b) 35.
- c) 64.
- d) 72.
- e) 91.

CONHECIMENTOS GERAIS / REGIONAIS / ATUALIDADES – Questões de 21 a 30

Instrução: analise cuidadosamente as questões apresentadas e marque na Folha de Respostas a alternativa coerente com a pergunta dada.

QUESTÃO 21.

Programa do Governo Federal brasileiro, lançado em 2007, é integrado por um conjunto de políticas econômicas com o objetivo de aumentar o crescimento econômico do país. O PAC tem como prioridade o investimento em infraestrutura. A sigla significa:

- a) Programa de Aceleração do Crescimento.
- b) Programa de Autorregulação da Conservação.
- c) Planejamento Acelerado do Crescimento.
- d) Projeto de Aceleração Comercial.
- e) Programa de Autonomia Crescente.

QUESTÃO 22.

Os Jogos Olímpicos Modernos são eventos esportivos internacionais que envolvem milhares de atletas em várias modalidades esportivas. O ano de 2012 marca a edição oficial dos Jogos da XXX Olimpíada. Identifique abaixo as cidades sedes dos jogos olímpicos das edições XXIX, XXX e XXXI, respectivamente:

- a) Barcelona, Atlanta e Sydney.
- b) Atenas, Pequim, Londres.
- c) Atenas, Londres e Rio de Janeiro.
- d) Pequim, Londres e Rio de Janeiro.
- e) Londres, Rio de Janeiro e Sydney.

QUESTÃO 23.

Do ponto de vista territorial, a Bahia representa um grande Estado do Brasil e faz fronteira com Estados do Nordeste, do Oeste e do Sudeste da Federação. Assinale abaixo, a única alternativa incorreta sobre Estados que fazem fronteira com a Bahia.

- a) Sergipe, Alagoas, Pernambuco.
- b) Goiás, Minas Gerais, Maranhão.
- c) Tocantins, Goiás, Minas Gerais.
- d) Espírito Santo, Alagoas, Sergipe.
- e) Tocantins, Pernambuco, Sergipe.

QUESTÃO 24.

O mundo atual vive uma crise econômica global que tem seu ponto central em um continente que apresenta um forte bloco econômico. Assinale a alternativa abaixo que indica corretamente o continente em questão e seu bloco econômico:

- a) continente Sul-americano e o bloco é o MERCOSUL.
- b) continente Norte-americano e bloco é NAFTA.
- c) continente é a Europa e bloco a UE.
- d) continente é o Asiático e o bloco é a APEC
- e) continente é o Africano e o bloco é a CEA.

QUESTÃO 25.

A agricultura tem sido, ao longo do tempo, uma das atividades econômicas que mais gera riquezas. O município de Umburanas possui, hoje, vocação para uma importante cultura que tem gerado renda, por meio dos seus 1.200 hectares plantados e cultivados por centenas de agricultores familiares, com produção anual estimada em 19 mil toneladas. Assinale a alternativa cuja cultura pode ser identificada corretamente.

- a) Sisal.

- b) Caju.
- c) Laranja.
- d) Coco-da-baía.
- e) Abacaxi.

QUESTÃO 26.

Em 2011, o município Campo Formoso sediou a primeira Feira de Pedras Preciosas e Artesanato, chamando a atenção para sua produção, proveniente do garimpo do Socotó, que exporta para o mundo. Assinale abaixo a alternativa que apresenta a principal pedra preciosa, produto de exportação mencionada no texto.

- a) Rubi.
- b) Ametista.
- c) Turmalina.
- d) Lápis-lazúli.
- e) Esmeralda.

QUESTÃO 27.

Em dezembro de 2012, o artista completaria 100 anos de idade se ainda estivesse vivo, faleceu em agosto de 1989. Foi uma das mais importantes personalidades da música popular brasileira, por sua criatividade e originalidade é considerado o "Rei do Baião". O artista em questão é:

- a) Luiz Gonzaga.
- b) Dorival Caymmi.
- c) Patativa do Assaré.
- d) Humberto Teixeira.
- e) Zé Dantas.

QUESTÃO 28.

"A área do Monumento Natural Cachoeira do Ferro Doido apresenta uma grande diversidade de ambientes decorrente da diversidade de substratos e dos diferentes graus de interferências antropológicas. Constitui-se em ambiente de relevante importância para espécies-chave e ameaçadas de extinção, a exemplo do urubu rei.

Sobre os solos mais férteis estão as Florestas Estacionais que se apresentam na sua forma decidual ou semidecidual. Seu porte atinge aproximadamente 20 metros de altura com madeira de grande valor comercial".

Secretaria de Meio Ambiente da Bahia - Monumento Natural. Disponível em <<http://www.meioambiente.ba.gov.br/conteudo.aspx?s=MNCACHOE&p=MONUMENT>>.

Criada pelo Decreto nº 7.412 de 1998, o Monumento Natural da Cachoeira do Ferro Doido, descrita no texto acima, está localizada em um município da região de Umburanas. Assinale a alternativa que apresenta o nome desse município.

- a) Sento Sé.
- b) Jacobina.
- c) Orolândia.
- d) Morro do Chapéu.
- e) Campo Formoso

QUESTÃO 29.

A Lei Estadual nº 4.844 de 1989, que cria o Município de Umburanas, foi assinada pelo então governador:

- a) João Durval Carneiro.
- b) Antônio Carlos Magalhães.
- c) Waldir Pires.
- d) Paulo Souto.
- e) César Borges.

QUESTÃO 30.

"[...] o município de Umburanas, situado no Piemonte da Chapada Diamantina, comemora seus 23 anos de emancipação política."

UPB - Umburanas comemora 23 anos. Disponível em <<http://www.upb.org.br/uniao-dos-municipios-da-bahia/informativos-e-noticias/index.php?id=7506>>

Os 23 anos de emancipação política de Umburanas, comemorados em 2012, coloca-a como um dos mais novos municípios da Bahia. Assinale a alternativa abaixo que apresenta a data em que se deu essa comemoração.

- a) 29 de janeiro.
- b) 24 de fevereiro.
- c) 20 de março.
- d) 15 de abril.
- e) 17 de maio.

CONHECIMENTOS ESPECÍFICOS – Questões de 31 a 40

Instrução: analise cuidadosamente as questões apresentadas e marque na Folha de Respostas a alternativa coerente com a pergunta dada.

QUESTÃO 31.

Pela alimentação, suprimos as necessidades energéticas do organismo, bem como, o equilíbrio na manutenção das suas funções vitais, como a regeneração, regulação e crescimento. Abaixo, são feitas afirmações gerais sobre o assunto, analise-as e assinale a alternativa incorreta.

- a) São exemplos de nutrientes de origem mineral: sal, água, iodo, potássio e os açúcares.
- b) Em uma dieta equilibrada, os nutrientes, que estão em maior quantidade, são os carboidratos.
- c) Os nutrientes estão presentes nos alimentos, mas nem todo alimento tem todos os nutrientes.
- d) Uma dieta com insuficiência de nutrientes ou com falta de alguns deles pode acarretar desnutrição.
- e) A alimentação adequada compõe-se de todos os nutrientes como, proteínas, carboidratos, gorduras, vitaminas e sais minerais.

QUESTÃO 32.

Os nutrientes possuem funções específicas no organismo e pela alimentação chegam ao corpo. Em relação a isso, identifique a alternativa que apresenta corretamente o nutriente responsável pelo fornecimento de energia.

- a) Vitaminas.
- b) Proteínas.
- c) Carboidratos.
- d) Sais minerais.
- e) Aminoácidos.

QUESTÃO 33.

A contaminação dos alimentos ocorre quando há mudanças nas características do mesmo. Essa contaminação pode ser de três tipos: física, química e biológica. Sobre esse assunto, identifique a alternativa correta.

- a) Farpas de madeira no alimento caracterizam uma contaminação química.
- b) Presença de bolores no alimento caracteriza contaminação biológica.
- c) Gotas de detergentes que caíram no alimento produzem contaminação física.
- d) O alimento que recebeu areia e poeira sofreu contaminação química.
- e) A presença de agrotóxico em frutas e verduras não caracteriza contaminação.

QUESTÃO 34.

A conservação de alimentos exige cuidados, pois alimentos estragados podem causar intoxicação alimentar. As alternativas, abaixo, estão relacionadas à conservação de alimentos. Identifique aquela incorreta sobre o assunto.

- a) Carnes frescas, peixes e laticínios devem ser guardados em refrigeradores.
- b) Alimentos secos devem ser mantidos em recipientes fechados para evitar o contato com animais e outros agentes do ambiente.
- c) A conservação de carnes com sal retira água das mesmas, o que impede a proliferação de larvas e bactérias, entre outros agentes de decomposição.
- d) Alimentos, cujo prazo de validade tenha vencido, podem ser consumidos em, no máximo, uma semana, após o término da validade.
- e) Uma boa medida para evitar imprevistos com a conservação de alimentos é adquiri-los e consumi-los frescos.

QUESTÃO 35.

Os eletrodomésticos na cozinha facilitam e ajudam no melhor desempenho do trabalho. Dados os utensílios de I a V, assinale a alternativa que não o caracteriza.

- I. Liquidificador.
- II. Batedeira.
- III. Forno micro-ondas.
- IV. Depurador de ar.
- V. Freezer.

- a) I pode ser usado para preparo de sucos, purês e sopas.
- b) II é usado no preparo de massas para bolos, batendo claras em neve.
- c) III é usado para cozinhar ou aquecer alimentos rapidamente.
- d) IV permite a produção de espumas em alimentos como, *mousses* e sorvetes.
- e) V permite o congelamento rápido para conservação de alimentos perecíveis.

QUESTÃO 36.

Na preparação de saladas cruas, qual dos produtos abaixo pode ser usado para a higienização?

- a) Creolina.
- b) Sabão em pó.
- c) Soda cáustica.
- d) Ácido muriático.
- e) Água sanitária.

QUESTÃO 37.

São Poderes da União, previstos na Constituição Federal:

- a) Legislativo, Moderador, Executivo e Judiciário.
- b) Executivo, Ministério Público, Legislativo e Judiciário.
- c) Moderador, Executor, Legislador e Julgador.
- d) Legislativo, Executivo e Judiciário.
- e) Orçamentário, Legislativo e Judiciário.

QUESTÃO 38.

O Artigo 5º da Constituição Federal estabelece os direitos e deveres individuais e coletivos. Analise as alternativas abaixo sobre direitos e deveres previstos e assinale a única alternativa correta.

- a) Perante a lei, homens e mulheres são diferentes.
- b) É garantido o direito de propriedade.
- c) A tortura é permitida desde que seja aplicada pela autoridade policial.
- d) A herança só é garantida para o Estado já que herdeiros legítimos devem entrar na justiça.
- e) O Estado não promoverá a defesa do consumidor, cabendo isso ao mercado.

QUESTÃO 39.

Direitos Sociais são garantidos no Artigo 6º da Constituição Federal. Analise as alternativas abaixo e assinale a única alternativa que não apresenta um direito social previsto no artigo.

- a) Educação.
- b) Trabalho.
- c) Religião.
- d) Saúde.
- e) Lazer.

QUESTÃO 40.

O regime jurídico dos servidores da Administração Pública Direta do Município de Umburanas é o:

- a) Estatutário.
- b) Celetista.
- c) Meeiro.
- d) Escravagista.
- e) Pensionista.

REALIZAÇÃO



ENDEREÇO ELETRÔNICO

www.multydeias.com.br

CONTATOS

contato@multydeias.com.br